
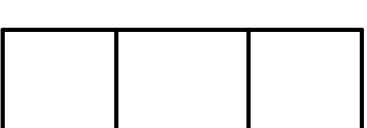



# traverse basse PERGOIA *format A3 échelle 1/2*

Dessiner la vue de face, la vue de dessus et la vue de gauche à l'éch 1/2.  
Calculer la mise en page en centrant les vues dans le format A3.

**CORRIGE**



barème:

vue de face ...../5      mise en page ...../3  
vue de dessus ...../4      qualité et précision des traits ...../2  
vue de gauche ...../4      propreté du dessin ...../2

appréciation:

.....

Note:...../20

Nom:.....

classe:.....

