


# SOUS-ENS n°3 PLATEAU/SOCLE DE RUCHE

Gwénaél RENAUD, Don-Bosco NICE

dessin de définition COTE GAUCHE repère 3.6




vue de face intérieure

V

V-V

...../7



...../2,5

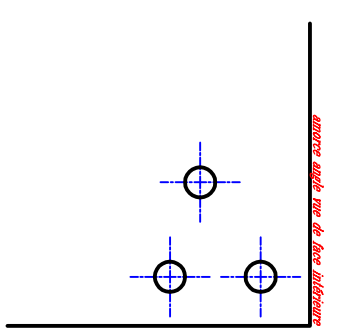
4  
COMPLÉTER



amorce vue de droite

V

...../2



amorce angle vue de face intérieure

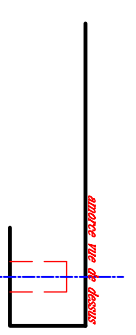


amorce vue de gauche en coupe

...../2

qualité traits ...../4

propreté graphique



amorce vue de dessous

...../20

...../2,5

## EXERCICE:

A partir du plan de s/ens. du socle, compléter les cinq vues amorcées ci-dessus (vue de face intérieure, vue de dessus et de dessous, vue de gauche en coupe et vue de droite). Représenter votre dessin à l'échelle 1/2 en faisant apparaître les arêtes cachées.

format A3H échelle: 1/2

Nom:.....

Classe:.....